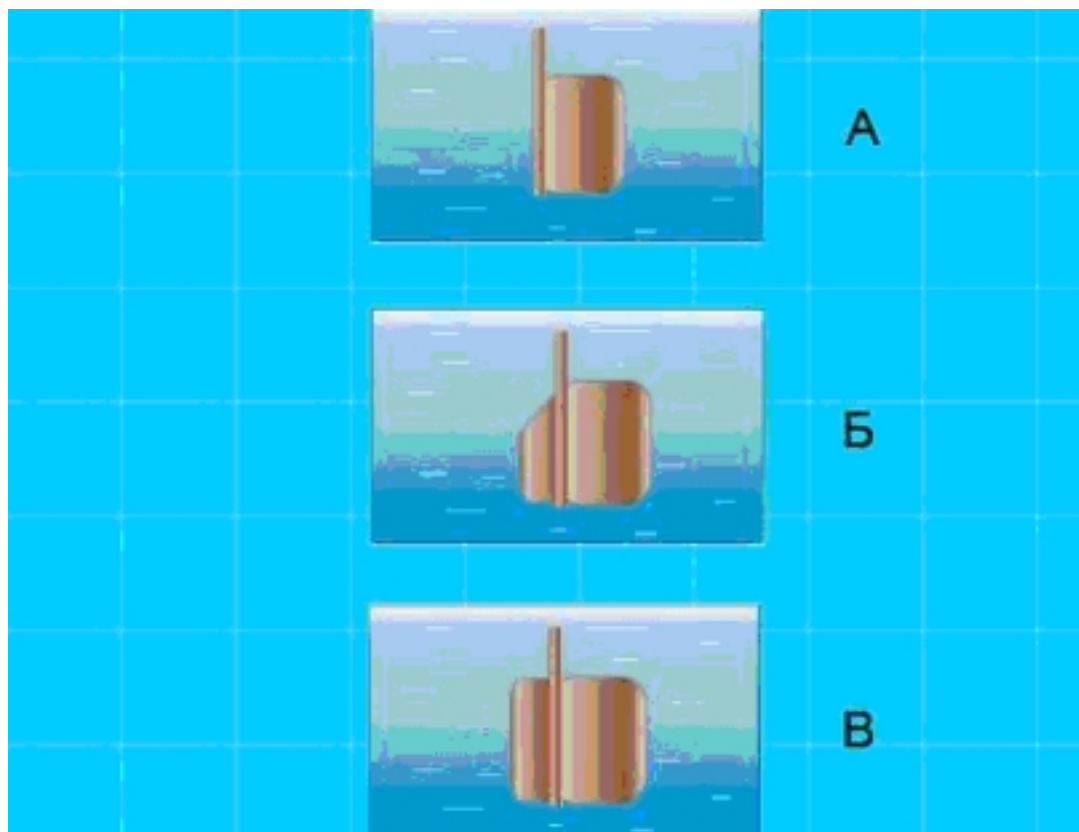


## М.1.2. Элементы конструкции маломерных судов, состояние которых влияет на безопасность плавания (демоверсия)

1. На каком рисунке изображен балансирующий руль?



- А
- Б
- В**
- На приведенных рисунках он не изображен

## 2. Для какой цели предназначено леерное ограждение на судах?



- Для предотвращения падения людей за борт
- Для предотвращения несанкционированного доступа
- Для обеспечения стока воды
- Для крепления швартовых концов

3. С какой целью на маломерном судне устанавливаются блоки из пенопласта или другого материала, имеющего плотность менее единицы?



- Для увеличения грузоподъемности судна
- Для усиления прочности бортового набора
- Для придания судну дополнительной остойчивости
- **Для обеспечения аварийного запаса плавучести**

#### 4. Какие меры должны быть предприняты во всех местах постоянного и временного пребывания людей?



- меры по предотвращению скольжения
- меры по предотвращению падения с высоты
- меры по предотвращению падения за борт
- **все перечисленные**

**5. Какая из перечисленных мер должна быть предпринята для предотвращения скольжения на трапе?**



- **края ступеней должны быть отмечены яркой краской или маркировочной лентой**
- ступени трапа должны быть накрыты ковровой дорожкой
- каждая ступень трапа должна быть покрашена в разные цвета
- ступени трапа должны быть посыпаны песком



**6. Какая из перечисленных мер должна быть предпринята для предотвращения ударов о выступы на переборках?**



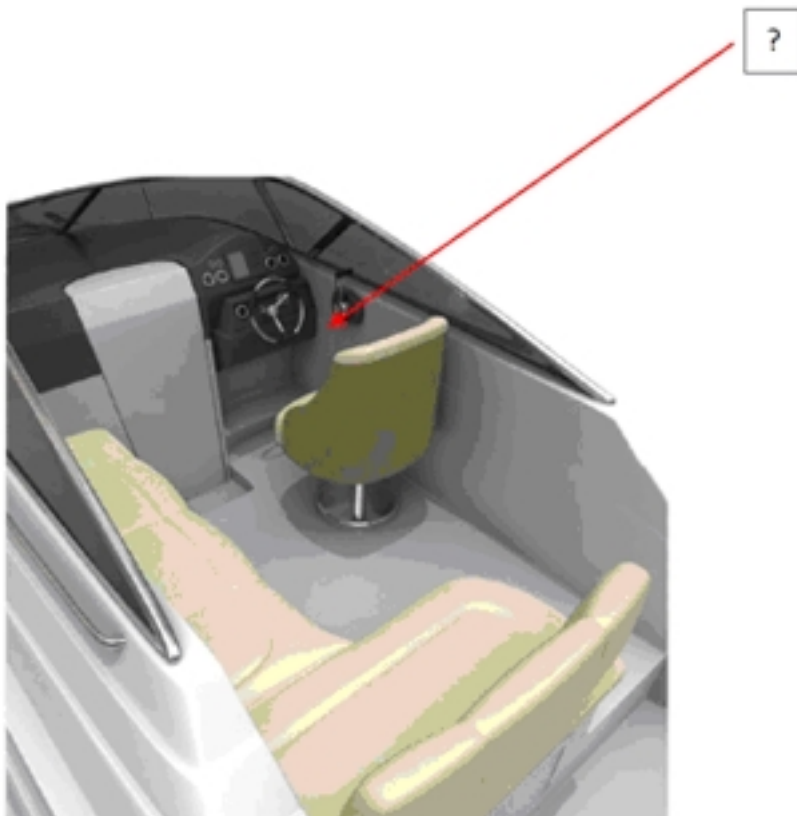
- покрыть выступ мягким амортизирующим материалом
- **необходимо обозначить выступы яркой желтой краской или маркировочной лентой**
- внести изменения в конструкцию судна для удаления выступа
- поставить на палубе предупреждающий знак

7. Как называется часть судна, указанная на рисунке?



- кокпит
- кабина
- **надстройка**
- корпус

8. Как называется часть судна, указанная на рисунке?



- навигационная палуба
- **рулевая рубка**
- кабина
- корпус




9. Как называется часть судна, предназначенная для фиксации подвесного мотора?



- **транец**
- кранец
- кормовой борт
- корма

10. Как называется отверстие в палубе, предназначенное для удаления за борт воды?



- сливное отверстие
- ливневый слив
- сифон
- **шпигат**