


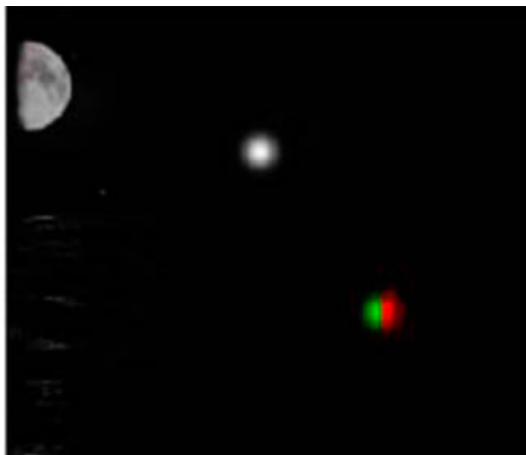
МП.1.2. Правила плавания маломерных судов, включая правила плавания в портах (демоверсия)

1. Какой из изображенных на иллюстрации сигналов не является сигналом бедствия?




- а
- б
- г
- **в**

2. Какое судно несет огни, изображенные на иллюстрации?



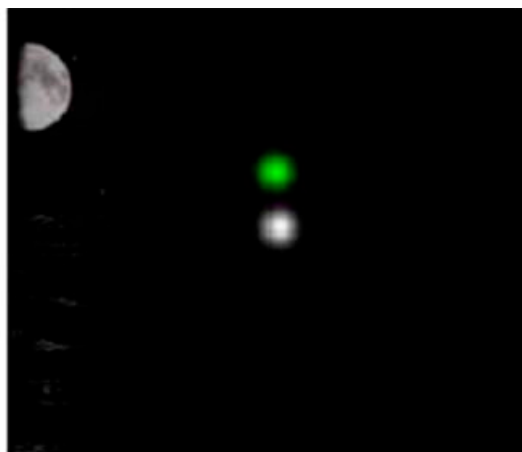
- Парусное судно на якоре
- Судно, лишенное возможности маневрировать
- Судно с механическим двигателем, длиной менее 7 м. Стоит на якоре
- **Судно с механическим двигателем, длиной менее 12 м. Идет на нас**

3. Какое судно несет огни, изображенные на иллюстрации?




- **Судно с механическим двигателем длиной менее 50 м на ходу. Виден правый борт**
- Судно с механическим двигателем длиной более 50 м на ходу. Виден правый борт
- Судно с механическим двигателем длиной менее 50 м на ходу. Виден левый борт
- Любое из перечисленных судов

4. Какое судно несет огни, изображенные на иллюстрации?




- Парусное судно
- Судно, занятое работами по устранению минной опасности, хода относительно воды не имеет
- Судно, занятое ловом рыбы, за исключением судов занятых тралением. Хода относительно воды не имеет
- **Рыболовное судно длиной менее 50м, не имеющее хода относительно воды, занятое тралением**

5. Какое судно несет огни, изображенные на иллюстрации?



- Судно, лишенное возможности управляться. Идет на нас
- Судно, лишенное возможности маневрировать. Идет на нас
- Рыболовное судно с тралом. Идет на нас
- **Судно, занятое ловом рыбы, за исключением судов занятых тралением. Идет на нас**

6. Какое судно несет огни, изображенные на иллюстрации?



- Судно, производящее лов рыбы кошельковым неводом
- Судно, лишенное возможности управляться. Хода относительно воды не имеет
- Рыболовное судно длиной менее 50 м. Хода относительно воды не имеет
- **Судно, ограниченное в возможности маневрировать. Хода относительно воды не имеет**

7. Что обозначает изображенный на иллюстрации плавучий навигационный знак?




- Чистой воды
- Специального назначения
- Осевой
- **Ограждающий отдельную опасность малых размеров**

8. Что обозначает изображенный на иллюстрации плавучий навигационный знак?



- Левую сторону фарватера
- Ось фарватера
- Основной фарватер справа
- **Правую сторону фарватера**

9. Что обозначает изображенный на иллюстрации плавучий навигационный знак?



- Ограждающий отдельную опасность
- Чистой воды
- Осевой
- **Специального назначения**

10. Что обозначает изображенный на иллюстрации плавучий навигационный знак?



- Правой стороны
- Осевой
- Основной фарватер слева
- **Основной фарватер справа**