

ВП.1.2. Правила плавания маломерных судов, включая правила плавания в портах (демоверсия)

1. Если два маломерных моторных судна идут пересекающимися курсами так, что возникает опасность столкновения, какое судно должно уступить дорогу другому судну?




- Судно, находящееся южнее другого судна
- Судно, находящееся севернее другого судна
- Судно, которое наблюдает другое судно по своему левому борту
- **Судно, которое наблюдает другое судно по своему правому борту**

2. Как должны маневрировать маломерные суда для расхождения друг с другом на акватории, не имеющей судоходной обстановки?




- Так, чтобы разойтись правыми бортами
- Так, чтобы расстояние между ними было не менее 50 м
- Так, чтобы расстояние между ними было не менее трех длин корпуса большего судна
- **Так, чтобы разойтись левыми бортами**

3. В каком из следующих случаев не разрешается пользоваться маломерным судном?



- У судоводителя нет при себе удостоверения на право управления судном
- Маломерное судно не зарегистрировано в установленном порядке
- На маломерном судне отсутствует судовой билет
- **Во всех перечисленных случаях**

4. На каком расстоянии от кромки судового хода должно следовать маломерное судно по судовому ходу, если нет возможности следовать за кромкой судового хода?




- На расстоянии до 5 м от кромки судового хода
- На расстоянии до 15 м от кромки судового хода
- На расстоянии до 20 м от кромки судового хода
- **На расстоянии до 10 м от кромки судового хода**

5. Как называется часть водного пространства на внутренних водных путях, предназначенная для движения судов и обозначенная на местности и (или) карте?



- Акватория
- Полоса движения
- Стрежень
- **Судовой ход**

6. Что означает поднятый на судне сигнал?



- Судно на мели
- Судно занято дноуглубительными работами
- Судно, лишенное возможности управляться, на якоре
- **Судно терпит бедствие и нуждается в помощи**

7. Что означает изображенный на иллюстрации знак, выставленный на парусном судне?



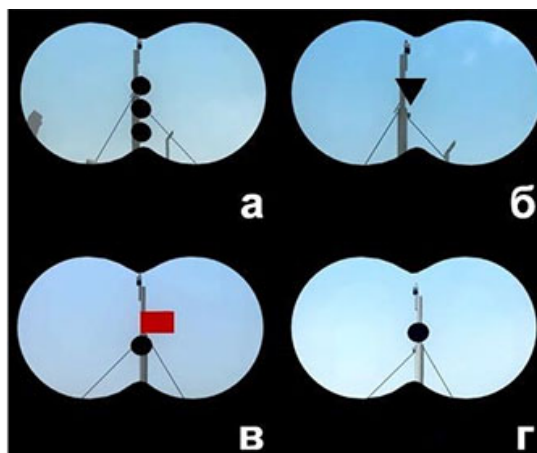
- Судно стоит на мели
- Судно длиной более 20 м
- Судно занимается рыбной ловлей
- **Судно идет под парусом и мотором одновременно**

8. Что означает знак, выставленный на судне?



- Судно ограничено в возможности маневрировать
- Судно занято ловом рыбы
- Судно осуществляет перевозку опасных грузов
- **Судно стоит на якоре**

9. Какой из изображенных на иллюстрации сигналов несет судно, терпящее бедствие?



- а)
- б)
- г)
- **в)**

10. Что означает звуковой сигнал из трех продолжительных звуков?



- "Прошу уменьшить ход"
- "Я изменяю свой курс влево"
- "Я намереваюсь сделать оборот"
- **"Человек за бортом"**