

ВВП.1.2. Правила плавания маломерных судов, включая правила плавания в портах (демоверсия)

1. Что обозначает изображенный на иллюстрации береговой навигационный информационный знак?




- Участок водного пути, где движение мелких плавсредств запрещено
- Пересечение судового хода
- Участок водного пути, где необходимо соблюдать особую осторожность
- **Зона подводного перехода, где нельзя якориться**

2. Что обозначает изображенный на иллюстрации береговой навигационный информационный знак?



- Место пересечения судового хода
- Участок, где запрещено создавать волнение
- **Участок, где на судовом ходу запрещено движение маломерных судов**
- Участок, где необходимо соблюдать особую осторожность

3. На что указывает изображенный на иллюстрации береговой навигационный знак?



- **На положение судового хода и его кромок**
- На ось судового хода
- На фарватер для прохода крупных судов
- На направление судового хода

4. Что обозначает изображенный на иллюстрации береговой навигационный информационный знак?



- Место приближения к перекату
- **Место пересечения судового хода судами и паромными переправами**
- Перекресток судовых ходов
- Ось судового хода

5. Что обозначает изображенный на иллюстрации береговой навигационный информационный знак?




- Участок судоходного пути, где скорость движения водоизмещающих судов ограничена 15 км/ч
- Участок судоходного пути, на котором глубина судового хода 15 м
- Участок судоходного пути, на котором максимальная допустимая высота надводного габарита судна 15 м
- Участок судоходного пути, на котором максимальная допустимая ширина судов 15 м

6. Что означают изображенные на иллюстрации сигнальные фигуры и огни на семафорной мачте?




- Ход закрыт для движения снизу
- Ход закрыт для движения сверху
- **Ход закрыт в оба направления**
- Ход закрыт в оба направления для маломерных судов

7. Что означает изображенное на иллюстрации сочетание сигнальных фигур на семафорной мачте?



- Ход закрыт в оба направления
- Ход закрыт для движения сверху
- Ход закрыт в оба направления для маломерных судов
- Ход закрыт для движения снизу

8. Что означает изображенное на иллюстрации сочетание сигнальных фигур на семафорной мачте?



- Ход закрыт для движения сверху
- Ход закрыт в оба направления для маломерных судов
- Ход закрыт для движения снизу
- Ход закрыт в оба направления

9. Что обозначает изображенный на иллюстрации плавучий навигационный знак?



- правую кромку судового хода
- **левую кромку судового хода**
- поворот судового хода и стоит у левого берега
- поворот судового хода и стоит у правого берега

10. Что обозначает изображенный на иллюстрации плавучий навигационный знак?



- ось судового хода
- поворот судового хода
- **особо опасное место у левой кромки судового хода**
- особо опасное место у правой кромки судового хода